

Nom : _____

Devoir dû le jeudi 4 février, 2021

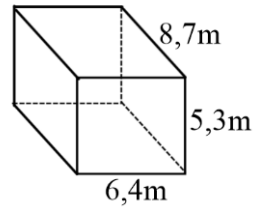
Classe : _____

Vendredi

Lundi

Une échelle se situe à 4m du mur d'une maison. Si l'échelle mesure 9m, quelle est la hauteur de la maison. Fais le dessin au besoin.

Trouve l'Aire Totale. Arrondis tes réponses au centième près.



Entre quelles deux racines carrées se situe chacun de ces nombres?

Ex : $\sqrt{64} = 8$

76

$\sqrt{81} = 9$

96

45

116

230

23

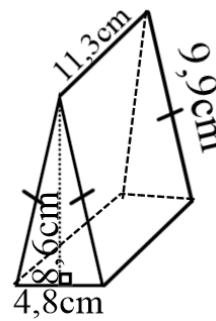
150

62

901

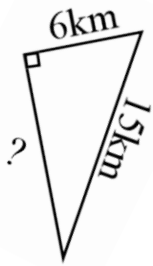
1599

Trouve l'Aire Totale. Montre tout le travail et toutes les étapes.



Mardi

Trouve les valeurs manquantes. Arrondis au centième près.



Mercredi

Trouve l'Aire totale des figures suivantes. Montre tout ton travail. Arrondis au centième près.

